



LICENCIATURAS EM ECONOMIA E GESTÃO

ESTATÍSTICA I

2º Teste - 4 de Junho de 2010

O teste é constituído por quatro grupos. Responda em **folhas separadas para cada grupo**. Se eventualmente não fizer algum grupo, entregue em branco a folha respectiva devidamente identificada.

Leia cuidadosamente a totalidade de cada grupo antes de o responder. Dê respostas mais simples sempre que o enquadramento teórico o permitir.

Explicite todas as hipóteses e os cálculos que tiver de fazer para a resolução dos problemas. Use um mínimo de **três** casas decimais. Os grupos ou as perguntas podem não estar pela ordem em que a matéria foi leccionada. Um grupo pode incluir diferentes matérias.

I (5,0 valores)

Num determinado concurso televisivo cada concorrente procede ao “Lançamento de dois dados perfeitos”, um azul (A) e um branco (B), numerados de um a 6.

- a) (i) Calcule o valor esperado e a variância dos pontos obtidos no lançamento do dado azul. Como interpreta esses resultados?
- (ii) Confirme o valor esperado e a variância obtidos em a) (i) através da função geradora de momentos.

Na primeira fase do concurso o concorrente ganha 10 euros por cada ponto que sai no dado azul e 20 euros por cada ponto que sai no dado branco.

- b) Calcule o valor esperado e a variância da soma dos euros ganhos no lançamento dos dois dados. [nesta alínea e nas seguintes não precisa de usar a função geradora de momentos].

A passagem do concorrente à fase seguinte do jogo exige que seja bem sucedido no lançamento dos dados. Sabe-se que, dos 36 resultados possíveis ao lançar os dois dados, só 9 permitem a aprovação do candidato nesta etapa. Caso contrário, é eliminado e o jogo reinicia-se com outro jogador.

Considere X a variável aleatória que representa o número de concorrentes eliminados sucessivamente até ao primeiro apurado.

- c) Determine a função de probabilidade de X e demonstre que esta apresenta as propriedades necessárias.
- d) Determine a expressão analítica da função de distribuição [probabilidade acumulada] e, através desta, calcule a probabilidade de $(5 \leq X < 10)$.

II (6,0 valores)

Uma empresa oferece seguros de saúde e cuidados médicos. Relativamente ao total dos seus clientes, a probabilidade de um deles ser internado num hospital é de 3%.

A probabilidade de um cliente ser internado depende de ser saudável, ter doenças ligeiras ou ter doenças graves. A prevalência de doenças num indivíduo varia consoante a sua idade, nomeadamente depende de ter mais ou menos de 65 anos. 20% dos clientes desta empresa têm mais de 65 anos.

Sabendo que um cliente tem mais de 65 anos, a probabilidade de ser saudável é de 40% e a probabilidade de ter doenças ligeiras é o dobro da probabilidade de ter doenças graves.

Sabendo que um cliente tem menos de 65 anos, a probabilidade de ter uma doença ligeira é quatro vezes a probabilidade de ter uma doença grave.

Tanto para o grupo com mais de 65 anos como para o grupo com menos de 65 anos, a probabilidade de um cliente com doenças ligeiras ser internado é de 5% e, também para os dois grupos de idade, para os clientes com doenças graves esta probabilidade é de 30%. Os clientes saudáveis nunca são internados.

- a) Represente a situação descrita através de um diagrama de árvore, a qual deve incluir todos os valores das probabilidades em causa.

Nota: Se não conseguir chegar a todas as probabilidades pedidas, arbitre valores coerentes para as probabilidades em falta na árvore pedida. A adequação da árvore e o uso da informação do texto inicial serão tomados em conta nas cotações das alíneas seguintes.

- b) Qual a probabilidade de um cliente escolhido ao acaso ter mais de 65 anos e não ser saudável?
- c) Sabendo que o António foi internado, qual a probabilidade de ele ter mais de 65 anos?
- d) A Maria e a Leonor são clientes desta empresa. Sabendo que a Maria tem 70 anos e a Leonor 40, e não tendo qualquer informação sobre o seu estado de saúde, qual a probabilidade de ambas terem sido internadas? Assuma que o estado de saúde e a necessidade de internamento de cada uma delas é independente do da outra.

A empresa aceitou fazer um novo seguro a um grupo de 100 pessoas, relativamente aos quais não sabe a idade, tendo apresentado a esse grupo uma proposta com um preço global, ou seja para o grupo, de 6000 euros para situações de internamento. O grupo achou que esse valor era muito alto e entregou a informação relativa aos seus membros, tendo-se verificado que todos tinham mais de 65 anos.

- e) Atendendo a que o custo para a seguradora com o internamento de cada pessoa é de 2000 euros, a proposta da seguradora deve ser revista? Justifique de forma quantificada.

III (4,0 valores)

1. Suponha que um aluno da Faculdade de Teologia da UCP sabe por tradição que 90% dos Católicos vivem no Continente A e 10% no Continente B. Desejando aprofundar os seus conhecimentos estudou a teoria de Bayes [Rev. Thomas Bayes da Igreja Presbiteriana Inglesa] e, consultando muitos registros das paróquias dos dois continentes, obteve a informação adicional de que, a percentagem de católicos do continente A era igual à percentagem do continente B. Terá ganho alguma coisa em termos de informação sobre as probabilidades estudar aqueles registros? Justifique quantitativamente utilizando uma árvore de decisão.
2. Considere a variável aleatória X , definida no intervalo $[0;b]$, tal que $\text{Prob}(X > x) = 1 - 0,01x^2$
 - a) Determine o valor de b .
 - b) Obtenha a expressão da função de densidade de probabilidade.
3. A probabilidade de uma variável aleatória estar compreendida entre os valores 0,2 e 0,8 é pelo menos igual a 0,75. Calcule a média e a variância desta variável aleatória.

IV (5,0 valores)

As variáveis aleatórias X e Y correspondem a indicadores químicos que medem o nível de determinadas substâncias químicas e que permitem avaliar a qualidade de um determinado produto, quando sujeito a análise.

Estima-se que estas variáveis X e Y tenham a seguinte função densidade de probabilidade conjunta:

$$f(x, y) = \begin{cases} 0,25 & , \quad \begin{cases} 0 < x < 2 \\ 0 < y < 4 \\ y + 2x \leq 4 \end{cases} \\ 0 & \text{outros valores de } x \text{ e de } y \end{cases}$$

Um produto para o qual X tome valores superiores a 1 ou Y tome valores superiores a 2 é considerado de qualidade inferior, sendo destruído.

- a) Em Média, qual o valor que se espera que um produto analisado apresente para o indicador X ?
- b) Como se altera o valor da alínea anterior sabendo que o indicador Y toma o valor de 1. O que pode concluir sobre a independência entre os indicadores X e Y ?
- c) Calcule a Função de Distribuição Conjunta de (X, Y) e utilize-a para calcular a probabilidade de um produto sujeito a análise não ser destruído.

Novas especificações impostas por lei obrigam à construção de dois novos indicadores, expresso como $W = (X^3 + 2Y)$ e como $Z = (XY)$.

- d) Para um qualquer produto sujeito a análise qual o valor esperado do novo indicador W e do novo indicador Z ?

I

a) (i) A: pontos sortidos no dado azul

$$f(a) = \begin{cases} 1/6 & a = 1, 2, 3, 4, 5, 6 \\ 0 & \text{outros valores de } a \end{cases}$$

$$E(A) = \sum_a a f(a) = (1+2+3+4+5+6) \times \frac{1}{6} = 3,5 \quad \text{pontos}$$

$$V(A) = \sum_a a^2 f(a) - E(A)^2 = (1+4+9+16+25+36) \times \frac{1}{6} - 3,5^2 = \\ = \frac{91}{6} - 12,25 = 15,16(6) - 12,25 = 2,91(6)$$

Se forem efetuadas n experiências aleatórias de lançar o dado, a média e a variância tendem para os valores indicados à medida que o n de experiências aleatórias aumenta. No limite são os valores encontrados.

$$(ii) M_x(t) = E(e^{tX}) = \sum_x e^{tx} f(x)$$

$$= (e^t + e^{2t} + e^{3t} + e^{4t} + e^{5t} + e^{6t}) \times \frac{1}{6}$$

$$M'_x(t) = (e^t + 2e^{2t} + 3e^{3t} + 4e^{4t} + 5e^{5t} + 6e^{6t}) \times \frac{1}{6}$$

$$M'_x(t=0) = (1+2+3+4+5+6) \times \frac{1}{6} = 3,5 = E(X)$$

$$M''_x(t) = (e^t + 2^2 e^{2t} + 3^2 e^{3t} + 4^2 e^{4t} + 5^2 e^{5t} + 6^2 e^{6t}) \times \frac{1}{6}$$

$$M''_x(t=0) = (1+2^2+3^2+4^2+5^2+6^2) \times \frac{1}{6} = \frac{91}{6} = E(X^2)$$

$$V(X) = E(X^2) - E(X)^2 = \frac{91}{6} - 3,5^2 = 2,91(6)$$

b) B: Pontos saídos no dedo branco

Tem a mesma distribuição dos pontos saídos no dedo azul.

$$E(10A + 20B) = 10E(A) + 20E(B) =$$

$$= 10 \times 3,5 + 20 \times 3,5 = 35 + 70 = 105 \text{ EUROS}$$

$$V(10A + 20B) = 10^2 V(A) + 20^2 V(B) + 2 \times 10 \times 20 \times \text{COV}(A, B)$$

$$= 100 \times 2,91(6) + 400 \times 2,91(6) + 0$$

$$= 291,6 + 1166,4 = 1458,0$$

OS PONTOS OBTIDOS EM A E B SÃO RESULTADOS INDEPENDENTES

PELO QUE $\text{COV}(A, B)$ DÁ ZERO.

c) X : N.º de concorrentes eliminados sucessivamente até ao primeiro apurado

$$P(X=0) = \frac{9}{36} \times \left(\frac{27}{36}\right)^0 = 0,25 \times 0,75^0 = 0,25$$

$$P(X=1) = 0,25 \times 0,75^1$$

$$P(X=2) = 0,25 \times 0,75^2$$

$$P(X=n) = 0,25 \times 0,75^n \rightarrow f(x) = \begin{cases} 0,25 \times 0,75^x, & x=0,1,2,\dots \\ 0 & \text{out. val. de } x \end{cases}$$

PROPRIEDADES:

1) $0,25 \times 0,75^x \geq 0$ para todos os valores de $x \in \mathbb{N}_0$

2) $\lim_{x \rightarrow \infty} 0,25 \times \frac{1-0,75^x}{1-0,75} = 0,25 \times \frac{1}{1-0,75} = \frac{0,25}{0,25} = 1$

Os dois requisitos estão cumpridos

d) $F(x) = P(X \leq x) = \underbrace{0,25 + 0,25 \times 0,75^1 + \dots + 0,25 \times 0,75^x}_{x+1 \text{ TERMOS}} =$
 $= 0,25 \times \frac{1-0,75^{x+1}}{1-0,75} = 1 - 0,75^{x+1}, \quad x=0,1,2,\dots$

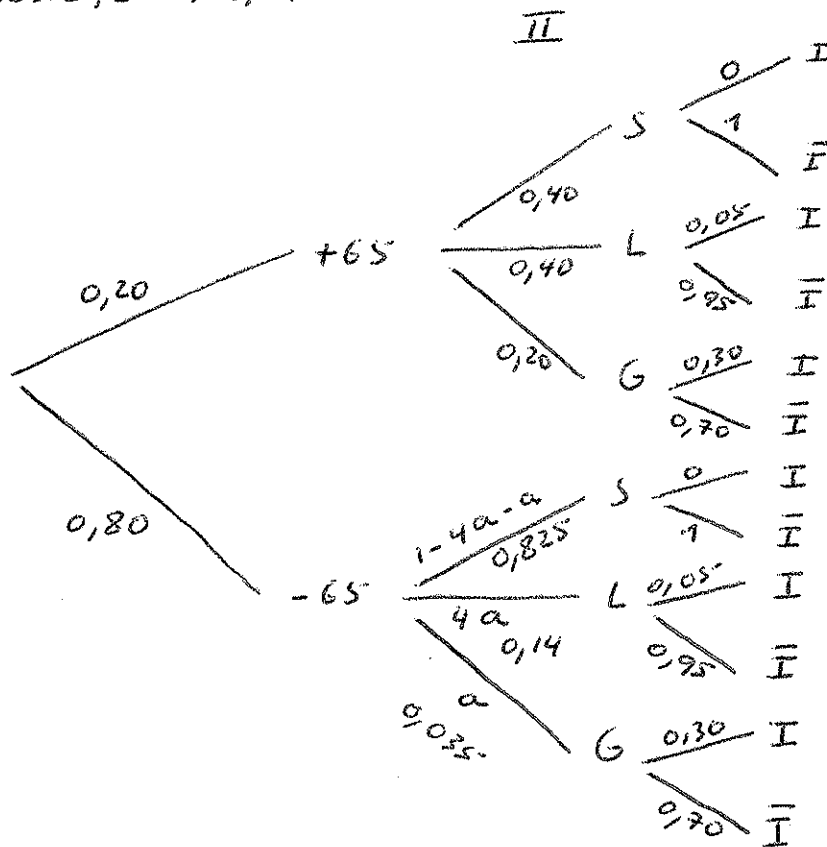
$$P(5 \leq X < 10) = P(5 < X \leq 10) - P(X=10) + P(X=5) =$$

$$= F(10) - F(5) - f(10) + f(5) =$$

$$= (1 - 0,75^{11}) - (1 - 0,75^6) - 0,25 \times 0,75^{10} + 0,25 \times 0,75^5 =$$

$$= 0,95776 - 0,82202 - 0,01408 + 0,05933 = 0,18099$$

a)



$$0,40 + 2 P(G|+65) + P(G|+65) = 1$$

$$\Leftrightarrow P(G|+65) = \frac{1 - 0,40}{3} = 0,20$$

$$P(L|+65) = 2 P(G|+65) = 2 \times 0,20 = 0,40$$

$$P(I) = 0,03 \quad [\text{PARÁGRAFO INICIAL DO ENUNCIADO}]$$

$$P(I) = 0,20 \times 0,40 \times 0,05 + 0,20 \times 0,20 \times 0,30 +$$

$$+ 0,80 \times 4a \times 0,05 + 0,80 \times a \times 0,30 =$$

$$= 0,004 + 0,012 + 0,16a + 0,24a =$$

$$= 0,016 + 0,4a$$

JUNTANDO AS DUAS CONDIÇÕES

$$0,016 + 0,4a = 0,03 \quad (\Leftrightarrow) \quad 0,4a = 0,014 \quad (\Leftrightarrow) \quad a = 0,035$$

$$P(G|-65) = 0,035$$

$$P(L|-65) = 4 \times 0,035 = 0,14$$

$$P(S|-65) = 1 - 0,035 - 0,14 = 0,825$$

$$\begin{aligned}
 \text{b) } P(+65 \cap \bar{I}) &= P(+65 \cap L) + P(+65 \cap G) = \\
 &= P(+65) \times P(L | +65) + P(+65) \times P(G | +65) = \\
 &= 0,20 \times 0,40 + 0,20 \times 0,20 = 0,08 + 0,04 = 0,12
 \end{aligned}$$

$$\text{c) } P(I | +65) = ?$$

$$\begin{aligned}
 P(I | +65) &= \frac{P(+65 \cap L \cap I) + P(+65 \cap G \cap I)}{P(I)} = \\
 &= \frac{0,20 \times 0,40 \times 0,05 + 0,20 \times 0,20 \times 0,30}{0,03 \text{ (INFORMAÇÃO INICIAL)}} = \\
 &= \frac{0,004 + 0,012}{0,03} = \frac{0,016}{0,03} = 0,533(3)
 \end{aligned}$$

$$\begin{aligned}
 \text{d) } P(\text{MARIA INTERNADA}) &= P(I | +65) = 0,40 \times 0,05 + 0,20 \times 0,30 = \\
 &= 0,08
 \end{aligned}$$

$$\begin{aligned}
 P(\text{LEONOR INTERNADA}) &= P(I | -65) = 0,14 \times 0,05 + 0,035 \times 0,30 = \\
 &= 0,0175
 \end{aligned}$$

$$P(\text{MARIA INTERNADA} \cap \text{LEONOR INTERNADA}) = 0,08 \times 0,0175 = 0,0014$$

e) Número de internamentos esperados:

$$100 \times P(I | +65) = 100 \times 0,08 = 8 \text{ pessoas}$$

Custo dos internamentos:

$$8 \times 2000 = 16000 \text{ euros}$$

A seguradora deve subir o seu preço em pelo menos:

$$16000 - 6000 = 10000 \text{ euros.}$$

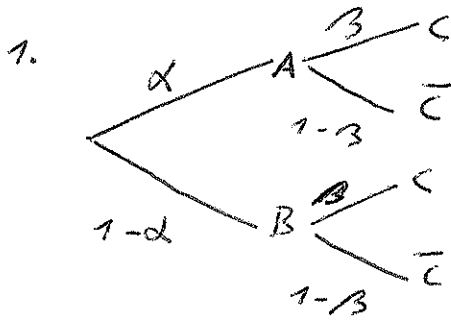
NOTA: A seguradora terá feito as contas pela probabilidade não condicionada do internamento, já que

$$100 \times P(I) = 100 \times 0,03 = 3 \text{ pessoas}$$

$$3 \times 2000 = 6000 \text{ euros}$$

ESTATÍSTICA I

2.º TESTE, 2010/06/04

III

$$P(C \setminus A) = P(C \setminus B) = \beta$$

$$\begin{cases} \frac{\alpha \times \beta}{\alpha \times \beta + (1-\alpha) \times \beta} = 0,9 \\ \frac{(1-\alpha) \times \beta}{\alpha \times \beta + (1-\alpha) \times \beta} = 0,1 \end{cases} \Leftrightarrow \begin{cases} \alpha = 0,9 \\ 1-\alpha = 0,1 \end{cases}$$

% DA POPULAÇÃO TOTAL QUE VIVE EM A: 90%.
 " " " " " " " " B: 10%. > RESPOSTA, NECESSARIAMENTE JUSTIFICADA

NOTA: Pode verificar-se que $P(A) = P(A|C) \times P(C) + P(A|\bar{C}) \times P(\bar{C})$ e $P(B) = P(B|C) \times P(C) + P(B|\bar{C}) \times P(\bar{C})$. Assim, ganhar em conhecimentos ao saber $P(A)$ e $P(B)$. MAS NÃO GANHA EM REVER AS PROBABILIDADES VÁZUE AS PROBABILIDADES A POSTERIORI SÃO IGUAIS ÀS PROBABILIDADES A PRIORI.

2. a) $F(x) = P(X \leq x) = 1 - P(X > x) = 1 - (1 - 0,01x^2) = 0,01x^2$

$$F(b) = 1 \Rightarrow 0,01b^2 = 1 \Leftrightarrow b^2 = 100 \Rightarrow b = 10 \text{ [} b \text{ é positivo]}$$

b) $f(x) = \frac{dF(x)}{dx} = 0,02x$, $0 < x < 10$

NOTA: b também pode ser obtido como:

$$\int_0^b f(x) dx = 1 \Rightarrow \int_0^b 0,02x dx = 1 \Leftrightarrow \left[0,01x^2 \right]_0^b = 1 \Leftrightarrow$$

$$\Leftrightarrow 0,01b^2 = 1 \Rightarrow b = +\sqrt{100} = 10$$

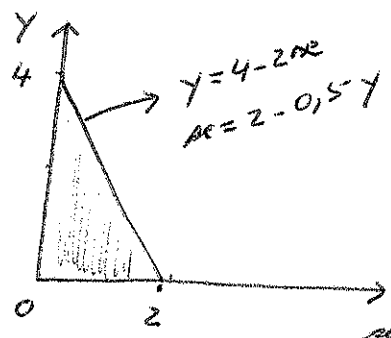
3. $P(0,20 \leq X \leq 80) > 0,75$

PELO T. TCHEBYCHEV: $1 - \frac{1}{k^2} = 0,75 \Rightarrow k = 2$

$$\begin{cases} \mu + 2\sigma = 0,80 \\ \mu - 2\sigma = 0,20 \end{cases} \Leftrightarrow \begin{cases} 2\mu = 1 \\ - \end{cases} \Leftrightarrow \begin{cases} \mu = 0,5 \\ \sigma = 0,15 \end{cases} \Leftrightarrow \begin{cases} \mu = 0,5 \\ \sigma^2 = 0,0225 \end{cases}$$

IV

$$f(x,y) = \begin{cases} 0,25 \cdot \begin{cases} 0 < x < 2 \\ 0 < y < 4 \\ y + 2x \leq 4 \end{cases} \\ 0 \text{ out. val. de } x, y \end{cases}$$



$$a) f_1(x) = \int_0^{4-2x} 0,25 \, dy = [0,25 \cdot y]_0^{4-2x} = 1 - 0,5x, \quad 0 < x < 2$$

$$E(X) = \int_0^2 x(1 - 0,5x) \, dx = \left[\frac{x^2}{2} - \frac{0,5x^3}{3} \right]_0^2 = 2 - \frac{4}{3} = \frac{2}{3} = 0,666(6)$$

$$b) f(x|y=1) = \frac{f(x,y=1)}{f_2(y=1)}$$

$$f_2(y) = \int_0^{2-0,5y} 0,25 \, dx = [0,25x]_0^{2-0,5y} = 0,5 - 0,125y, \quad 0 < y < 4$$

$$f(x|y=1) = \frac{0,25}{0,5 - 0,125} = \frac{0,25}{0,375} = 0,666(6), \quad 0 < x < 1,5$$

$$\text{nota: } \begin{cases} x = 2 - 0,5y \\ y = 1 \end{cases} \Rightarrow x = 1,5$$

$$E[x|y=1] = \int_0^{1,5} x \cdot 0,666(6) \, dx = \left[\frac{0,666(6)x^2}{2} \right]_0^{1,5} =$$

$$= 0,75 \neq E(X) \Rightarrow X \text{ e } Y \text{ não são independentes}$$

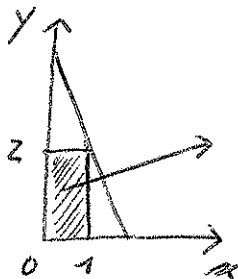
$$c) F(x, y) = \int_0^x \left[\int_0^y 0,25 \, dv \right] du =$$

$$= \int_0^x \left[0,25 \cdot v \right]_0^y du = \int_0^x 0,25 \cdot y \, du = \left[0,25 \cdot y \cdot u \right]_0^x =$$

$$= 0,25 \cdot y \cdot x = 0,25 \cdot x \cdot y \quad , \quad \begin{cases} 0 < x < 2 \\ 0 < y < 4 \\ y + 2x \leq 4 \end{cases}$$

$$P(X < 1, Y < 2) = F(2, 1) = 0,25 \cdot 2 \cdot 1 = 0,5$$

NOTA:



Valores para x e y em que o produto não é destruído.

$$d) E(W) = E(X^3 + 2Y) = E(X^3) + 2E(Y)$$

$$E(X^3) = \int_0^2 x^3 f_1(x) \, dx = \int_0^2 x^3 (1 - 0,5x) \, dx = \int_0^2 (x^3 - 0,5x^4) \, dx =$$

$$= \left[\frac{x^4}{4} - \frac{0,5x^5}{5} \right]_0^2 = \left[0,25x^4 - 0,1x^5 \right]_0^2 = 4 - 3,2 = 0,8$$

$$2E(Y) = 2 \int_0^4 y (0,5 - 0,125y) \, dy =$$

$$= 2 \int_0^4 (0,5y - 0,125y^2) \, dy = \left[\frac{0,5y^2}{2} - \frac{0,125y^3}{3} \right]_0^4 \times 2 =$$

$$= 2 \times (4 - 2,666(6)) = 2,666(6) \approx 2,667$$

$$E(Z) = E(XY) = \int_0^2 \left[\int_0^{4-2x} xy \cdot 0,25 \, dy \right] dx = \int_0^2 \left[\frac{0,125xy^2}{2} \right]_0^{4-2x} dx =$$

$$= \int_0^2 \frac{0,125x}{2} (16 - 16x + 4x^2) \, dx = \int_0^2 (2x - 2x^2 + 0,5x^3) \, dx =$$

$$= \left[x^2 - \frac{2x^3}{3} + \frac{0,5x^4}{4} \right]_0^2 = 4 - \frac{16}{3} + 2 = \frac{18}{3} - \frac{16}{3} = \frac{2}{3}$$